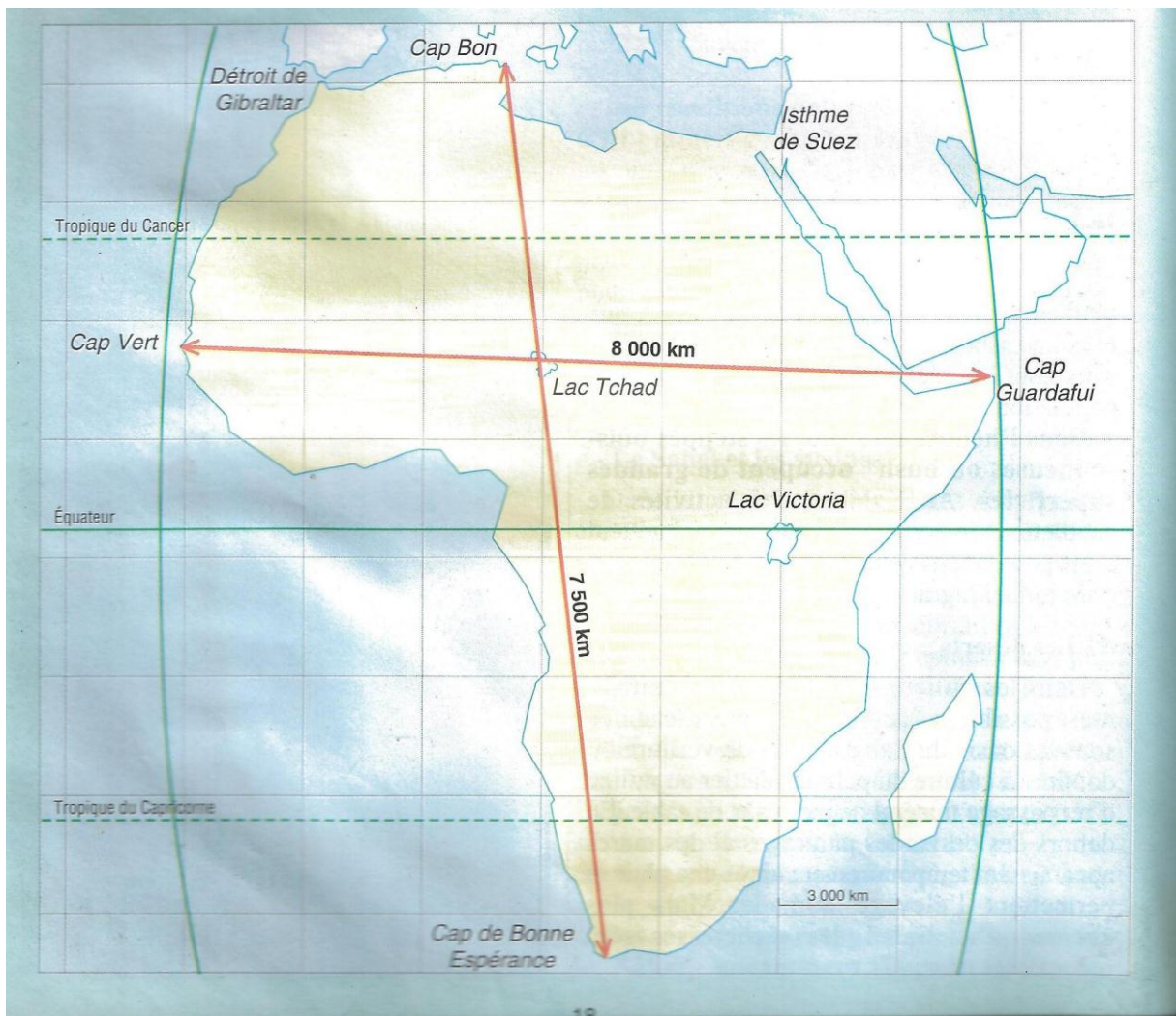


## TRAVAUX PRATIQUES(T.P) No 1

### CONSTRUCTION DE LA CARTE DE L'AFRIQUE :

La carte est une représentation en réduction d'une partie de la surface terrestre. La réduction est plus ou moins importante ; elle est définie par l'échelle de la carte.

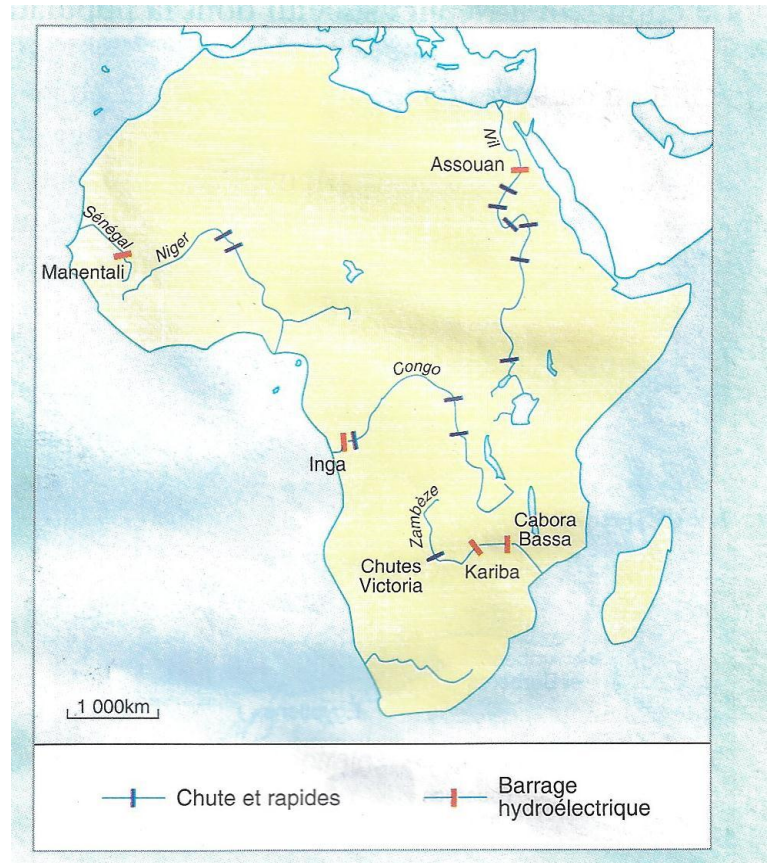
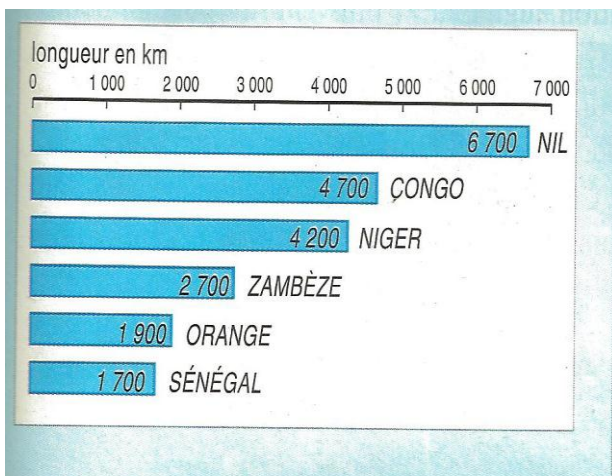
- A l'aide du document ci-dessous, dessiner les contours du continent africain.
- Tracer ensuite le cours des fleuves Congo, Nil, Zambèze, Niger, Sénégal et Orange.
- Placer les principaux déserts.



## TRAVAUX PRATIQUES (T.P) No 2

### ETUDE DES GRANDS FLEUVES AFRICAINS :

Les fleuves africains sont peu propices à la pénétration du continent et à la navigation :



A. A l'aide de la carte, expliquer pourquoi.

Les ressources en énergie hydraulique sont considérables. Elles ne sont encore que très partiellement exploitées :

B. Quels sites ont été équipés de grands barrages ? Quelle est leur utilité ?

## TRAVAUX PRATIQUES (T.P) No 3

### COMPARAISON DE DIAGRAMES OMBROTHERMIQUES :

A. Observer ces différents diagrammes : décrire chacun des climats qu'ils représentent.

